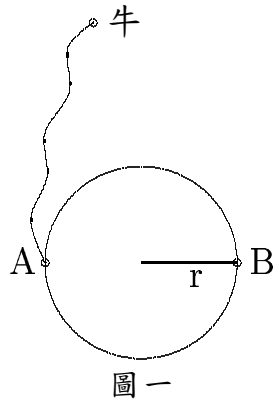
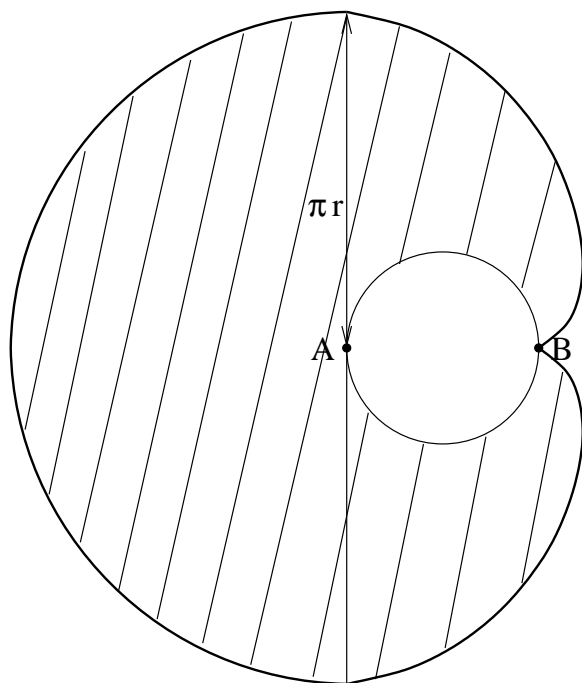


牛吃草問題

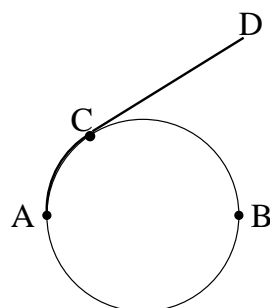
有一頭牛，被栓在一個半徑為 r 的木樁上(如圖一所示) 繩子的一端被固定在 A 點，而牛能夠走到木樁的對面 B 。木樁的外部都是草地，請問牛有辦法吃到多少草？



經由觀察我們發現牛能吃到草的範圍如右圖的斜線部份(見圖二). 由題意知繩長為 πr , 而在A點左邊的區域會是一個半圓. 至於剩下的區域怎麼求得呢? 當繩子被木樁”拌住”的時候(見圖三). 牛所達到的最遠處為D, 其中弧長 \widehat{AC} 加直線長 \overline{CD} 為 πr (繩子的長度), 而曲線即所有這種點所形成的軌跡.

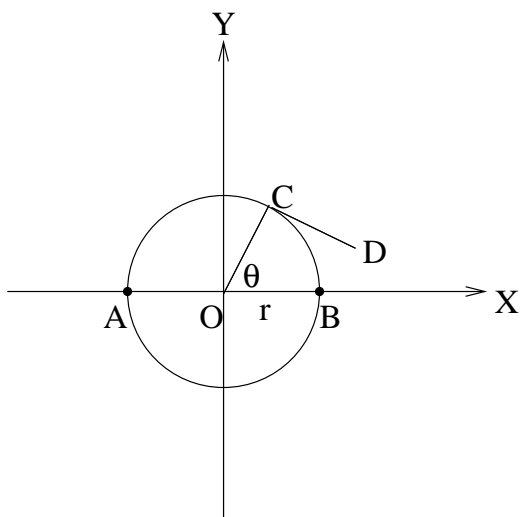


圖二

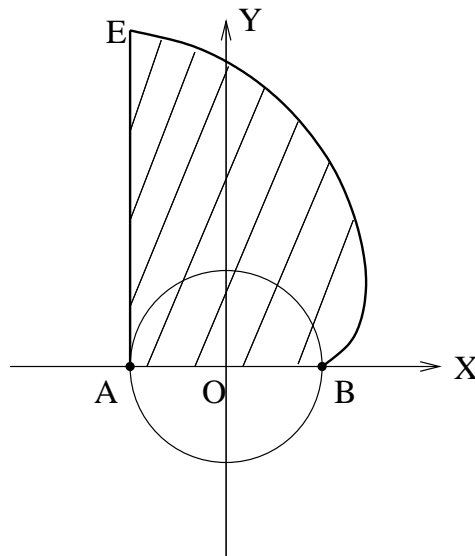


圖三

我們可以利用解析幾何將軌跡描述出來：取木樁的中心為原點 O ，令 \overrightarrow{OB} 與 \overrightarrow{OC} 的夾角為 θ (如圖四)，於是 C 點坐標為 $(r \cos \theta, r \sin \theta)$ ，而 \overline{CD} 會是圓在 C 點上的切線段，所以 $\overrightarrow{CD} = k(\sin \theta, -\cos \theta)$ ， k 待定，而 \overline{CD} 長度要等於弧長 \widehat{BC} ，於是 $|\overrightarrow{CD}| = r\theta$ ，解得 $k = r\theta$ ，所以 D 點坐標即確定： $(r \cos \theta, r \sin \theta) + r\theta(\sin \theta, -\cos \theta) = (r(\cos \theta + \theta \sin \theta), r(\sin \theta - \theta \cos \theta))$



圖四



圖五

我們可先計算圖五的斜線面積，它會是以下所表示的積分值：

$$\begin{aligned} \text{Area} &= \int y(\theta) dx(\theta) = \int y(\theta) x'(\theta) d\theta \\ &= -\int_0^\pi r(\sin \theta - \theta \cos \theta) \cdot r\theta \cos \theta d\theta \\ &= -r^2 \left[\int_0^\pi (\theta)(\sin \theta \cdot \cos \theta) d\theta - \int_0^\pi \theta^2 \cos^2 \theta d\theta \right] \\ &= -r^2[(1) + (2)] \end{aligned}$$

$$\begin{aligned} (1) &= \frac{1}{8} \int_0^\pi (2\theta)(\sin 2\theta) d(2\theta) = \frac{1}{8} \int_0^{2\pi} x \cdot \sin x dx = -\frac{1}{8} \int_0^{2\pi} x d(\cos x) \\ &= -\frac{1}{8} [x \cdot \cos x|_0^{2\pi} - \int_0^{2\pi} \cos x dx] = -\frac{1}{8}(2\pi) = -\frac{\pi}{4} \end{aligned}$$

(其中 $\cos x$ 為周期函數，故 $\int_0^{2\pi} \cos x dx = 0$)

$$\begin{aligned} (2) &= -\int_0^\pi \theta^2 \left(\frac{1+\cos 2\theta}{2} \right) d\theta = -\int_0^\pi \frac{1}{2} \theta^2 d\theta - \frac{1}{2} \int_0^\pi \theta^2 \cos 2\theta d\theta \\ &= -\frac{1}{6} \theta^3 \Big|_0^\pi - \frac{1}{16} \int_0^\pi (2\theta)^2 \cos 2\theta d(2\theta) \\ &= -\frac{1}{6} \pi^3 - \frac{1}{16} \int_0^{2\pi} x^2 \cos x dx \\ &= -\frac{1}{6} \pi^3 - \frac{1}{16} [x^2 \sin x|_0^{2\pi} - \int_0^{2\pi} \sin x \cdot 2x dx] \\ &= -\frac{1}{6} \pi^3 - \frac{1}{8} [x \cdot \cos x|_0^{2\pi} - \int_0^{2\pi} \cos x dx] = -\frac{1}{6} \pi^3 - \frac{\pi}{4} \end{aligned}$$

$$\therefore \text{Area} = \frac{1}{6}\pi^3 r^2 + \frac{1}{2}\pi r^2,$$

至此可得吃草的範圍=上下兩塊 Area, 加上左半圓扣掉木樁面積 =

$$2 \cdot \left(\frac{1}{6}\pi^3 r^2 + \frac{1}{2}\pi r^2\right) + \frac{(\pi r)^2 \pi}{2} - \pi r^2 = \frac{5}{6}\pi^3 r^2 (\text{平方單位})$$

補充: 圖五中弧 \widehat{BE} 稱為圓的漸伸線(involute)